

ویژه‌ی ۱۷ فروردین

تابلوی دوران طلایی

چهارم دبستان

هدف‌گذاری برای آزمون ۱۷ فروردین		هدف‌گذاری برای آزمون ۱۷ فروردین		هدف‌گذاری برای آزمون ۱۷ فروردین		هدف‌گذاری برای آزمون ۱۷ فروردین		هدف‌گذاری برای آزمون ۱۷ فروردین	
تیمین از منابع مطالعاتی	در کتاب سؤال‌های پرتکرار به چند سؤال پاسخ می‌دهید؟	در کتاب سؤال‌های پرتکرار به چند سؤال پاسخ می‌دهید؟	از ده سؤال به چند سؤال پاسخ می‌دهید؟	چند ساعت مطالعه می‌کنید؟	چند ساعت مطالعه کردید؟	منبع برای تمرین	مبحث رنگ آمیزی کنید	نام درس	
						کتاب نوروز	از روی کارنامه‌ی محشی میزان تسلط خود را رنگ آمیزی کنید، به سه رنگ: و (مسلط نیستم) ، (خیلی خوب)	اعداد و الگوها	
						آزمون ۱		کسر	
						آزمون ۱ و ۲		ضرب و تقسیم	
						آزمون ۲ و ۳		اندازه‌گیری	
						آزمون ۴		عدد مخلوط و عدد اعشاری	
						آزمون ۵		رنگ علوم، مخلوط‌ها در زندگی، انرژی، نیاز هر روز ما	
						آزمون ۱ و ۲		انرژی الکتریکی، گرما و ماده	
						آزمون ۳		سنگ‌ها	علوم
						آزمون ۴ و ۵		آهن ربا در زندگی، آسمان در شب	
						آزمون ۵		بدن ما (۱)، بدن ما (۲)	
						آزمون ۱		سنایش، آفریدگار زیبایی، کوچ پرستوها، راز نشانه‌ها	
						آزمون ۲		ارزش علم، راهایی از قفس، آرش کمانگیر	
						آزمون ۳		مهمان شهر ما	فارسی
						آزمون ۴		درس آزاد، باغچه‌ی اطفال، فرمانده دل‌ها	
						آزمون ۵		اتفاق ساده، لطف حق	



کانون فرهنگی
آموزش قلم‌چی
www.kanoon.ir
www.kanoonbook.ir
کانون ۰۲۱ - ۸۴ ۵۱
۰۲۱ - ۶۴ ۶۳

کتاب‌های کار



کتاب سوال‌های پرتکرار



کتاب نوروز



آزمون اول

فارسی : صفحه‌های ۸ تا ۳۵ و نگارش فارسی : صفحه‌های ۸ تا ۲۴

ستایش، آفریدگار زیبایی، کوچ پرستوها، راز نشانه‌ها

ریاضی : صفحه‌های ۲ تا ۳۳

اعداد و الگوها، کسر

علوم : صفحه‌های ۱ تا ۲۰

زنگ علوم، مخلوط‌ها در زندگی، انرژی نیاز هر روز ما

مطالعات اجتماعی : صفحه‌های ۲ تا ۱۸

(محلّی ما، همسایه‌ی ما، اینجا محلّی ماست، خرید و فروش،

در محلّ، نقشه‌ی محلّی ما)

هدیه‌های آسمان : صفحه‌های ۸ تا ۲۷

دانه‌ای که نمی‌خواست برود، ... ، ما به مسجد می‌رویم




آزمون ۱

فارسی

ستایش، آفریدگار زیبایی، کوچ پرستوها، راز نشانه‌ها

فارسی: صفحه‌های ۸ تا ۳۵ / نگارش فارسی: صفحه‌های ۸ تا ۲۴



۱. کدام‌یک از ابیات داده شده، با بیت زیر ارتباط دارد؟ 

هر ورقش دفتری است معرفت کردگار

«برگ درختان سبز در نظر هوشیار»


(۱) این سبزه که امروز تماشاگه توست / فردا همه از خاک تو بر خواهد رُست

(۲) خدا در رنگ و بوی گل نهان است / بهار و باغ و گل از او نشان است

(۳) مدعی خواست که آید به تماشاگه راز / دست غیب آمد و بر سینه‌ی نامحرم زد

(۴) من مَلِک بودم و فردوس برین جایم بود / آدم آورد در این دیر خراب آبادم

مکمل با متن درس صفحه‌ی ۱۳ کتاب درسی، آفریدگار زیبایی

۲. در کدام گزینه کلمه‌ای وجود دارد، که با بقیه متفاوت است؟ 

(۱) ماشین، اتوبوس، موتورسیکلت

(۲) اصفهان، شیراز، بازار

(۳) دایره، مثلث، مربع

(۴) مداد، دفتر، تراش

مرتبط با واژه آموزشی صفحه‌ی ۱۴ کتاب درسی، آفریدگار زیبایی

۳. جاهای خالی شعر زیر با کلمات کدام گزینه کامل می‌شود؟

بـال ز د تـا

سـار از شـافه

هـر چـه را

گفت با سبزه و

(۱) پرید / پهنه‌ی دشت / باغ / گفت و شنید

(۲) پرید / ته باغ / گل / گفت کلاغ

(۳) جهید / پهنه‌ی دشت / گل / گفت و شنید

(۴) جهید / ته باغ / باغ / گفت کلاغ

مرتبط با شعر حقیقی خبیر داغ صفحه‌ی ۱۷ کتاب درسی، آفریدگار زیبایی



کانون فرهنگی آموزش قلم چی



۴. با توجه به درس «کوچ پرستوها»، کدام گزینه نادرست است؟

(۱) نخستین کار پرستوهای از راه رسیده، یافتن لانه‌های سال گذشته است.

(۲) پرستوهای جوان، ساختن لانه را از پدر و مادر خود می‌آموزند.

(۳) هر پرستو چهار تا شش تخم می‌گذارد و دوازده روز روی آن‌ها می‌خوابد.

(۴) تغییرات هوا یکی از خطراتی است که در زمان کوچ، پرستوها را تهدید می‌کند.

مرتبط با متن درس صفحه‌های ۱۸ تا ۲۱ کتاب درسی، درس کوچ پرستوها

۵. «علامت نگارشی» در پایان کدام جمله با سایر جملات متفاوت است؟

(۱) سارا گفت: من امروز به پارک می‌روم.

(۲) شاخه‌ها تاب نیاوردند.

(۳) کسی جوابش را نمی‌داد.

(۴) چطور خدا را پیدا کنم.

مرتبط با دانش زبانی صفحه‌های ۲۲ کتاب درسی، کوچ پرستوها

۶. با توجه به معنی جملات، در کدام گزینه غلط املایی وجود دارد؟

(۱) نباید دوستانمان را در جمع خوار کنیم.

(۲) اکسیژن یکی از عوامل اصلی حیات انسان است.

(۳) سینا گلی از باغ چید و خار در دستش فرو رفت.

(۴) خوان بزرگ تاج‌گذاری کرد.

مرتبط با واژه‌آموزی صفحه‌های ۳۲ کتاب درسی، راز نشانه‌ها

۷. مفهوم کدام‌یک از مصراع‌های زیر نادرست است؟

(۱) تو را دیدم، خدایت را ندیدم: خدا را با چشم نمی‌توان دید.

(۲) بهار و باغ و گل، از او نشان است: زیبایی‌های طبیعت، نشانه‌ی وجود خداست.

(۳) آهو از دشت گریخت: آهو به سوی دشت حرکت کرد.

(۴) روبهک جست و طعمه را بر بود: روباه پرید و طعمه را بُرد.

مرتبط با شعر حقیقی صفحه‌های ۸، ۱۷ و ۳۵ کتاب درسی، ستایش و آفریدگار زیبایی



۸. هریک از آثار زیر، به ترتیب مربوط به کدام شاعر یا نویسنده است؟

شعر خدا ❀ داستان در جست‌وجو ❀ شعر روباه و زاغ ❀ شعر خبر داغ

۱) پروین دولت‌آبادی / محمد میرکیانی / شکوه قاسم‌نیا / حبیب یغمایی

۲) پروین اعتصامی / محمد میرکیانی / حبیب یغمایی / شکوه قاسم‌نیا

۳) پروین اعتصامی / کلر ژوبرت / شکوه قاسم‌نیا / حبیب یغمایی

۴) پروین دولت‌آبادی / کلر ژوبرت / حبیب یغمایی / شکوه قاسم‌نیا

مرتبط با متن صفحه‌های ۸، ۷، ۱۲، ۱۹، ۲۰ و ۳۴ کتاب درسی، آفریدگار زیبایی

۹. در میان واژه‌های زیر چند غلط املایی وجود دارد؟

صحبت ❀ صطح زمین ❀ ارقوانی ❀ صنوبر ❀ معتدل ❀ تغیرات ❀ معذرت

۱) دو

۲) سه

۳) چهار

۴) پنج

مرتبط با متن صفحه‌های ۱۰، ۱۲، ۱۹، ۲۰ و ۳۵ کتاب درسی، کوچ پرستوها

۱۰. معنی واژه‌های زیر، به ترتیب در کدام گزینه آمده است؟

حیلت‌ساز ❀ طعمه ❀ معتدل ❀ پیمودن ❀ پهنه

۱) مگّار / شکار / متوسط / پشت سر گذاشتن / عریض

۲) زیرک / خوراک / متوسط / طی کردن / عریض

۳) مگّار / خوراک / نه سرد و نه گرم / طی کردن / سطح

۴) زیرک / شکار / نه سرد و نه گرم / پشت سر گذاشتن / سطح

مرتبط با متن صفحه‌های ۱۷، ۱۹، ۲۱، ۳۴ و ۳۵ کتاب درسی، کوچ پرستوها

کانون فرهنگی آموزش قلم چی

آزمون ۱

ریاضی

اعداد و الگوها، کسر

صفحه‌های ۲ تا ۳۳



۱۱. فرزندان عزیزم امسال ما وارد چه سالی شدیم؟ این عدد چند رقمی است؟

عدد این سال را با شکل نشان داده، آن را در جدول ارزش مکانی قرار داده و به رقم و به حروف بنویسید.

پاسخ

مرتبط با فعالیت صفحه ۴ کتاب درسی، فصل اعداد و الگوها

۱۲. خانوادگی سهیل می‌خواهند با یکی از وسایل زیر به سفر بروند. به نظر شما در هر یک از وسایل نقلیه‌ی زیر، به‌طور تقریبی چند مسافر جای می‌گیرند؟ آن‌ها را به هم وصل کن.

وسایله‌ی نقلیه	نفرات
هوایما	۵ نفر
اتوبوس	۱۰۰ نفر
اتومبیل	۵۰۰ نفر
قطار	۴۰ نفر

مرتبط با تمرین ۹، صفحه ۷ کتاب درسی، فصل اعداد و الگوها

۱۳. جاهای خالی را با اعداد مناسب کامل کنید.

۲۱	○	○
○	$\times 18$	$\div 3$
○	○	۷۸

مرتبط با کار در کلاس صفحه ۴ کتاب درسی، فصل اعداد و الگوها



۱۴. الناز به همراه مادرش برای خرید لباس‌های عید به بازار رفت. با توجه به مقدار پول‌شان، آن‌ها چه وسایلی را می‌توانند بخرند؟ دور آن‌ها خط‌بکش. (فرید آن‌ها طوری باشد که جمع فرید آن‌ها برابر با مقدار پول‌شان باشد و از هر کالا فقط یک عدد فریداری کنند.)



۳۵۰۰۰ تومان



۳۰۰۰۰ تومان



۷۴۰۰۰ تومان



۲۰۰۰۰ تومان



۲۰۰۰ تومان



۲۶۰۰۰ تومان

پاسخ

مکمل فعالیت ۳ صفحه‌ی ۱۶ کتاب درسی، فصل اعداد و الگوها

۱۵. پدر ویدا برای خرید یک اتومبیل یک چک به مبلغ ۲۵,۳۸۰,۰۰۰ تومان می‌خواهد بکشد. برای کامل کردن چک تو هم به او کمک کن.

بانک نوروز

تاریخ:

مبلغ به رقم ریال

به حروف ریال

امضاء

مکمل کار در کلاس ۳، صفحه‌ی ۱۷ کتاب درسی، فصل اعداد و الگوها

کانون فرهنگی آموزش قلم چی

۱۶. پول‌های زیر، عیدی‌های سینا هستند. او چند تومان عیدی گرفته است؟



(۲) ششصد و هشتاد هزار تومان

(۱) هشتصد و هشتاد هزار تومان

(۴) شصت و هشت هزار تومان

(۳) هشتاد و هشت هزار تومان

مرتبط با تمرین ۳ صفحه‌ی ۷ کتاب درسی، فصل اعداد و الگوها

۱۷. اگر شکل پنجمین شکل یک الگو باشد، سومین شکل این الگو چند دایره دارد؟ (از بالا به پایین یک ردیف دایره در هر مرحله اضافه می‌شود).



۶ (۴)

۹ (۳)

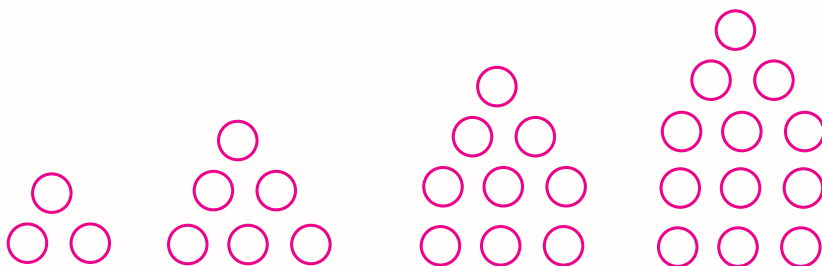
۵ (۲)

۳ (۱)

پاسخ

مکمل فعالیت صفحه‌ی ۹ کتاب درسی، فصل اعداد و الگوها

۱۸. با توجه به الگوی زیر، تعداد دایره‌ها در مرحله‌ی پنجم به ۲۴ دایره می‌رسد؟



مرحله‌ی ۱

مرحله‌ی ۲

مرحله‌ی ۳

مرحله‌ی ۴

۶ (۱)

۸ (۲)






۷ (۳)

۹ (۴)

پاسخ

مرتبط با فعالیت صفحه‌ی ۹ کتاب درسی، فصل اعداد و الگوها

۱۹. با توجه به کاری که ماشین انجام می‌دهد، خروجی ماشین کدام گزینه است؟



مرتبط با تمرین ۳ صفحه‌ی ۱۵ کتاب درسی، فصل اعداد و الگوها

۲۰. خانواده‌ی امیر در ایام نوروز از تهران به سمت یزد حرکت کردند و پس از طی کردن ۶۷۷ کیلومتر به آنجا رسیدند. سپس از یزد به طرف بندرعباس حرکت کردند. فاصله‌ی یزد تا بندرعباس هم ۶۷۷ کیلومتر بود. پس از بندرعباس به سمت بندر چابهار که حدود ۱۱۳۷ کیلومتر فاصله داشت، حرکت کردند. آن‌ها به‌طور کلی چند کیلومتر از تهران تا بندر چابهار راه پیمودند؟

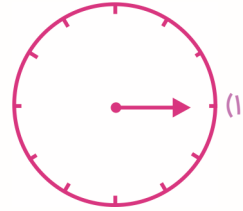
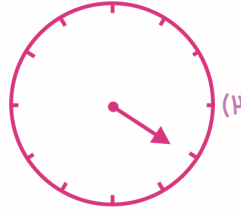
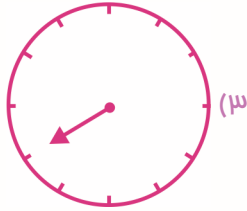
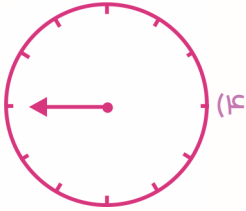
- ۱) دو هزار و چهارصد و نود و یک
- ۲) سه هزار و چهارصد و نود و یک
- ۳) هزار و دویست و سی و چهار
- ۴) چهار هزار و دویست و سی و چهار

پاسخ

مرتبط با جمع و تفریق کن صفحه‌ی ۱۹ کتاب درسی، فصل اعداد و الگوها

کانون فرهنگی آموزش قلم چی

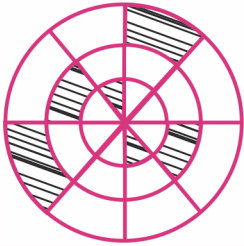
۲۱. عقربه‌ی کدام ساعت، $\frac{1}{3}$ ساعت را طی کرده است؟



پاسخ

مرتبط با کار در کلاس (صفحه‌ی ۲۷ کتاب درسی، فصل کسر)

۲۲. چه کسری از شکل زیر رنگ شده است؟



(۱) $\frac{6}{22}$

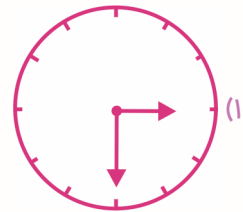
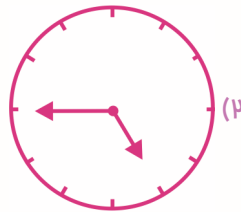
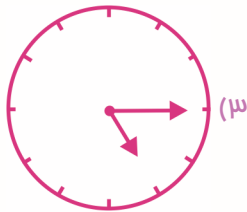
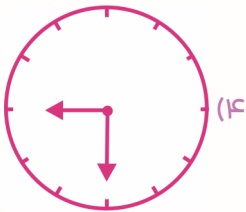
(۲) $\frac{3}{16}$

(۳) $\frac{2}{18}$

(۴) $\frac{1}{4}$

مکمل کار در کلاس ۲ صفحه‌ی ۲۷ کتاب درسی، فصل کسر

۲۳. عقربه‌های کدام ساعت عدد مخلوط $5\frac{1}{4}$ را نشان می‌دهند؟



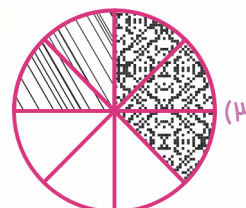
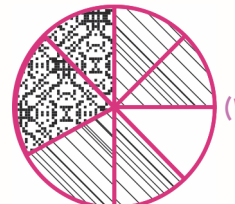
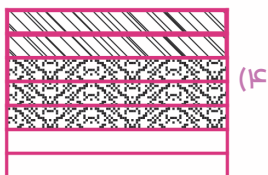

پاسخ

مرتبط با کار در کلاس (صفحه‌ی ۲۸ کتاب درسی، فصل کسر)



۲۴. $\frac{2}{7}$ میوه‌های یک باغ به شهر اصفهان و $\frac{3}{7}$ آن به شهر خمین رفت. کدام شکل برای نشان دادن میوه‌های

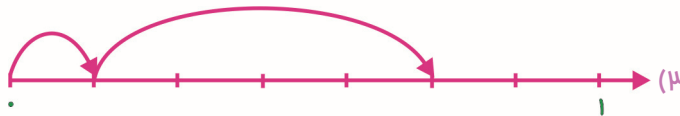
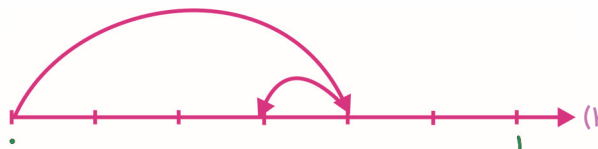
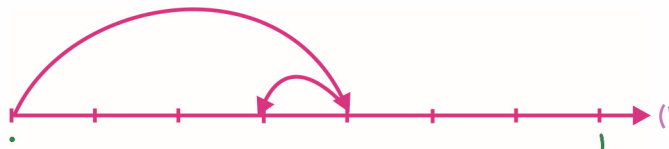
باقی‌مانده در باغ مناسب‌تر است؟



پاسخ

مکمل کار در کلاس (صفحه‌ی ۳۱ کتاب درسی، فصل کسر)

۲۵. کدام محور، عبارت $\frac{3}{6} - \frac{1}{6} = \frac{4}{6}$ را نشان می‌دهد؟



مرتبط با کار در کلاس (صفحه‌ی ۳۱ کتاب درسی، فصل کسر)

کانون فرهنگی آموزش قلم چی

آزمون ۱

علوم

زنگ علوم، مخلوطها در زندگی، انرژی نیاز هر روز ما

صفحه‌های ۱ تا ۲۰



۲۶. به نظر شما اگر در آزمایش حباب‌ها، از سیم‌های مربعی، لوزی و ستاره‌ای شکل استفاده کنیم، شکل

حباب‌هایی که با این سه سیم می‌سازیم چگونه است؟

مرتبط با پیش‌پینی کنید صفحه‌ی ۳ کتاب درسی، زنگ علوم

۲۷. جدولی تهیه کنید و مشخص کنید کدام مخلوط از طریق صاف کردن و کدام مخلوط از طریق تبخیر

جدا می‌شود؟

دم کرده‌ی گل گاوزبان آب و برنج ماسه و آب آب دریا تهیه‌ی ماست چکیده

تبخیر	صاف کردن

مکمل گفت‌وگو صفحه‌ی ۱۳ کتاب درسی، مخلوطها در زندگی

۲۸. چگونه از انرژی آب برای تولید انرژی‌های دیگر استفاده می‌کنند؟ (با مثال)

مرتبط با علم و زندگی صفحه‌ی ۲۰ کتاب درسی، انرژی نیاز هر روز ما



۲۹. هر کدام از موارد زیر دارای چه نوع انرژی هستند؟



مرتبط با متن صفحه ۱۷ کتاب درسی، انرژی نیاز هر روز ما

۳۰. دو مخلوط جامد در جامد، دو مخلوط جامد در مایع، دو مخلوط مایع در مایع و یک مخلوط گاز در گاز را نام ببرید.

گاز در گاز	مایع در مایع	جامد در مایع	جامد در جامد
—			

مرتبط با فکر کنید صفحه ۸ کتاب درسی، مخلوطها در زندگی

۳۱. پیش‌بینی پاسخ سؤالات گوناگون توسط دانشمندان بر چه اساسی است؟

(۱) فقط آزمایش

(۲) مشاهده‌ی دقیق و جمع‌آوری اطلاعات

(۳) مصاحبه با افرادی که در آن زمینه تخصص دارند.

(۴) پرسش از افراد گوناگون

مرتبط با متن صفحه ۳ کتاب درسی، رنگ علوم

۳۲. به نظر شما بهتر است در فصل سرما برای گرم ماندن از چه رنگ لباس‌هایی استفاده کنیم؟

(۱) طوسی

(۲) سفید

(۳) زرد

(۴) تیره و مشکی

مرتبط با پیش‌بینی کنید صفحه ۱۴ کتاب درسی، رنگ علوم

کانون فرهنگی آموزش قلم چی

۳۳. کدام یک از مخلوط‌های زیر جامد در جامد نیست؟

- (۱) آجیل عید
- (۲) مخلوط میوه‌های خشک
- (۳) باقالی پلو
- (۴) شربت خاکشیر

مرتبط با متن صفحه ۷ کتاب درسی، مخلوط‌ها در زندگی

۳۴. کدام یک از ظرف‌های زیر محلول مایع در مایع را نشان می‌دهد؟

- (۱) نوشابه
- (۲) شربت خاکشیر
- (۳) گلاب
- (۴) آرد در آب

مرتبط با فکر کنید صفحه ۸ کتاب درسی، مخلوط‌ها در زندگی

۳۵. کدام مخلوط زیر یک محلول به حساب نمی‌آید؟

- (۱) آب قند
- (۲) دوغ
- (۳) آب نمک
- (۴) زعفران دم کرده و صاف شده

مرتبط با متن و فکر کنید صفحه ۹ کتاب درسی، مخلوط‌ها در زندگی

۳۶. روش جداسازی مایع در کدام مخلوط با بقیه تفاوت دارد؟

- (۱) شربت خاکشیر
- (۲) چای شیرین
- (۳) آب نمک
- (۴) آب‌جوش و نبات

مکمل فعالیت صفحه ۱۳ کتاب درسی، مخلوط‌ها در زندگی



۳۷. کدام یک از موارد زیر مخلوط مضر برای محیط زیست محسوب می‌شود؟

(۱) داروها

(۲) رنگ‌های شیمیایی

(۴) سیمان

(۳) ادویه‌ها

مرتبط با متن صفحه ۱۴ کتاب درسی، مخلوطها در زندگی

۳۸. احتمال برنده شدن کدام فرد در مسابقه‌ی دو بیشتر از بقیه است؟

(۱) فردی که میزان کافی بخوابد و از روز قبل هیچ چیز نخورد.

(۲) فردی که فقط از روز قبل آب بنوشد.


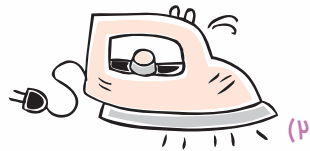
(۳) فردی که خواب کافی دارد و غذای لازم و آب خورده است.

(۴) هر ۳ نفر با احتمال یکسان برنده می‌شوند.



مرتبط با متن صفحه ۱۶ کتاب درسی، انرژی نیاز هر روز ما

۳۹. نوع انرژی مصرف شده در کدام گزینه با بقیه متفاوت است؟



مکمل تصاویر صفحه ۱۷ کتاب درسی، انرژی نیاز هر روز ما

۴۰. در کدام مورد از انرژی باد برای حرکت اجسام استفاده نشده است؟

(۴) بادنما

(۳) فرفره

(۲) پنکه‌ی سقفی

(۱) بادبادک

مرتبط با فکر کنید صفحه ۱۸ کتاب درسی، انرژی نیاز هر روز ما

آزمون ۱

مطالعات اجتماعی

محله‌ی ما (همسایه‌ی ما، ...، نقشه‌ی محله‌ی ما)

صفحه‌های ۲ تا ۱۸



۴۱. طبق سخن پیامبر اسلام چه تعداد از موارد زیر موجب می‌شود تا خداوند و پیامبر (ص) ما را دوست داشته باشند؟

- | | | |
|----------------------------|------------------------------------|-----------------------|
| (الف) امانت‌دار بودن | (ب) راستگو بودن | (ج) مهربانی به کودکان |
| (د) خواندن نماز در اول وقت | (ه) به نیکی رفتار کردن با همسایگان | |
| ۵ (۱) | ۴ (۲) | ۳ (۳) |
| | | ۲ (۴) |

متن صفحه‌ی ۳ کتاب درسی، همسایه‌ی ما

۴۲. چه تعداد از عبارتهای زیر نادرست می‌باشند؟

- (الف) مسجد، محلی است که مردم در آن فقط به عبادت خدا می‌پردازند.
(ب) محله‌ها با گذشت زمان تغییر نمی‌کنند و شکل آن‌ها ثابت است.
(ج) همه‌ی بوستان‌ها، وسایل بازی و ورزش مخصوص کودکان دارند.
(د) ایستگاه اتوبوس، فضای سبز و کتابخانه‌ی ملی از جمله امکاناتی هستند که همگان حق استفاده از آن‌ها را ندارند.

- | | | | |
|-------|-------|-------|-------|
| ۴ (۱) | ۳ (۲) | ۲ (۳) | ۱ (۴) |
|-------|-------|-------|-------|

مرتبط با متن صفحه‌های ۶، ۷ و ۹ کتاب درسی، (پنجاه محله‌ی ماست، خرید و فروش در محله)

۴۳. اگر درآمد علی در هر هفته ۶۰۰۰ تومان باشد و هزینه‌های او در دو هفته برابر ۹۰۰۰ تومان باشد، او بعد از پنج هفته چه مقدار پس‌انداز کرده است؟ (او در هر هفته هزینه‌ی ثابت و مساوی دارد.)

- (۱) ۱۵۰۰۰ تومان
(۲) ۷۵۰۰ تومان
(۳) ۳۰۰۰ تومان

(۴) اطلاعات مسئله کافی نیست.

مکمل با متن صفحه‌های ۱۰ و ۱۱ کتاب درسی، خرید و فروش در محله



۴۴. با توجه به جدول زیر و جدول امتیازها، سهراب کدام توپ را باید انتخاب کند؟

(۱) توپ شماره‌ی (۱)

(۲) توپ شماره‌ی (۲)

(۳) توپ شماره‌ی (۳)

(۴) توپ شماره‌ی (۴)

شماره‌ی توپ	جنس توپ	قیمت توپ	رنگ توپ
۱	چرم ★★	۵۰۰۰۰ تومان ★	قرمز ★★
۲	فوم ★★	۲۵۰۰۰ ★★	آبی ★★
۳	چرم ★★	۴۰۰۰۰ تومان ★★	سبز ★
۴	لاستیک ★	۱۵۰۰ ★★	مشکی

جدول امتیازها			
ضعیف	متوسط	خوب	خیلی خوب
-	★	★★	★★★

مکمل مترن و فعالیت صفحه‌ی ۱۲ کتاب درسی، خرید و فروش در محله

۴۵. چه تعداد از عبارتهای زیر صحیح می‌باشند؟

(الف) برای تهیه‌ی نقشه از عکس‌هایی استفاده می‌شود که با هواپیما از بالای سطح زمین گرفته می‌شوند.

(ب) راهنمای نقشه معنای رنگ‌ها و علامت‌های روی نقشه را مشخص می‌کند.

(ج) در کشیدن نقشه‌ی یک کلاس که از بالا آن را ببینیم و بکشیم کتاب‌های داخل قفسه‌های کتاب را

نمی‌توانیم نشان دهیم.

(۱) صفر

(۲) ۱

(۳) ۲

(۴) ۳

مرتب با مترن و تصاویر صفحه‌های ۱۳ تا ۱۷ کتاب درسی، نقشه‌ی محله‌ی ما

آزمون ۱

هدیه‌های آسمان

دانه‌ای که نمی‌خواست برود، کودکی بر آب، ما به مسجد می‌رویم

صفحه‌های ۸ تا ۲۷



۴۶. قرار دادن ابزار جهت رفع نیاز موجودات نشان‌دهنده‌ی کدام صفات خداوند می‌باشد؟

(۱) بخشش و توبه‌پذیری

(۲) دانایی و توانایی

(۳) توانایی و عادل بودن

(۴) عادل بودن و دانایی

مکمل تدبیر کنیم صفحه‌ی ۱۳ کتاب درسی، دانه‌ای که نمی‌خواست برود

۴۷. بیت زیر در مورد کدام پیامبر است؟

«رودها از خود نه طغیان می‌کنند / آنچه می‌گوییم ما، آن می‌کنند.»

(۱) حضرت عیسی (ع)

(۲) حضرت ابراهیم (ع)

(۳) حضرت موسی (ع)

(۴) حضرت محمد (ص)

مکمل ایستگاه فکر صفحه‌ی ۱۹ کتاب درسی، کودکی بر آب

۴۸. خداوند آسیه را در قرآن معرفی کرده است، آسیه به مردان و زنان با ایمان چه چیزی آموخت؟

(۱) بهترین بندگان - الگوی دیگران باشند.

(۲) الگوی مؤمنان - الگوی دیگران باشند.

(۳) الگوی مؤمنان - از مبارزه با ستمکاران هراس نداشته باشند.

(۴) بهترین بندگان - از مبارزه با ستمگران هراس نداشته باشند.

مرتبط با پگرد و پیدا کن صفحه‌ی ۱۷ کتاب درسی، کودکی بر آب



۴۹. چه تعداد از عبارات زیر در مورد نماز صحیح است؟

(الف) پاداش نماز فرادی بیش‌تر از نماز جماعت است.

(ب) در نمازهای چهار رکعتی ذکر رکعت اول و دوم با ذکر رکعت سوم و چهارم فرق می‌کند.

(ج) در رکعت سوم و چهارم نماز، تسیحات اربعه می‌خوانیم.

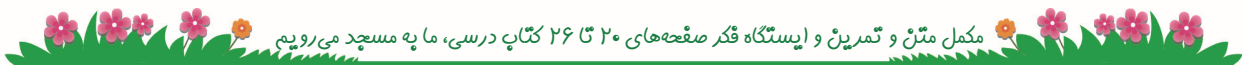
(د) اولین کاری که برای نماز خواندن باید انجام دهیم وضو گرفتن است.

۱ (۱)

۲ (۲)

۳ (۳)

۴ (۴)



۵۰. آرامگاه پیامبر در قرار دارد و اولین مسجدی که پیامبر (ص) و یارانش ساختند نام داشت.

(۱) مسجد قبا - مسجد الاقصی

(۲) مسجد قبا - مسجد النبی

(۳) مسجد الاقصی - مسجد النبی

(۴) مسجد النبی - مسجد قبا



مرتبط با متن صفحه ۲۰ کتاب درسی، ما به مسجد می‌رویم

آزمون دوم

فارسی : صفحه‌های ۳۶ تا ۵۹ و **نگارش فارسی :** صفحه‌های ۲۵ تا ۳۶

ارزش علم، رهایی از قفس، آرش کمان‌گیر

ریاضی : صفحه‌های ۳۴ تا ۵۹

کسر، ضرب و تقسیم

علوم : صفحه‌های ۲۱ تا ۳۶

انرژی نیاز هر روز ما، انرژی الکتریکی، گرما و ماده

مطالعات اجتماعی : صفحه‌های ۱۹ تا ۴۵

شهر من، روستای من (زندگی در شهر و روستا، ... ، جغرافی دانان ...)

پیدایش شهر و روستا (نخستین روستاها، ... ، مورخان)

هدیه‌های آسمان : صفحه‌های ۲۸ تا ۵۱

یک نماز، ده رکوع ! ، ... ، نماز در کوهستان

