



آموزش و تمرین



ریاضی اول ابتدایی



از مجموعه‌ی رشادت





محمد برجی اصفهانی
مریم برجی اصفهانی


تا باز کنی در سعادت

همراه توایم با رشادت


فهرست

صفحه	بخش	صفحه	بخش
۹۶	بخش ۱۴	۵	بخش ۱
۱۰۳	بخش ۱۵	۱۰	بخش ۲
۱۱۱	بخش ۱۶	۱۷	بخش ۳
۱۲۰	بخش ۱۷	۲۲	بخش ۴
۱۲۸	بخش ۱۸	۳۰	بخش ۵
۱۳۶	بخش ۱۹	۳۶	بخش ۶
۱۴۵	بخش ۲۰	۴۸	بخش ۷
۱۵۳	بخش ۲۱	۵۴	بخش ۸
۱۶۱	بخش ۲۲	۶۰	بخش ۹
۱۶۷	بخش ۲۳	۶۷	بخش ۱۰
۱۷۷	بخش ۲۴	۷۵	بخش ۱۱
۱۸۴	بخش ۲۵	۸۱	بخش ۱۲
		۸۹	بخش ۱۳









با توجه به تصویر زیر، مشخص کن از هر یک از شکل های داخل جدول چند تا داریم؟ 

- از کدام شکل ۴ تا داریم؟ (زمینه ی آن را سبز کن.)

- تعداد کدام شکل ها از ۳ تا کم تر است؟ (زمینه ی آن ها را قرمز کن.)

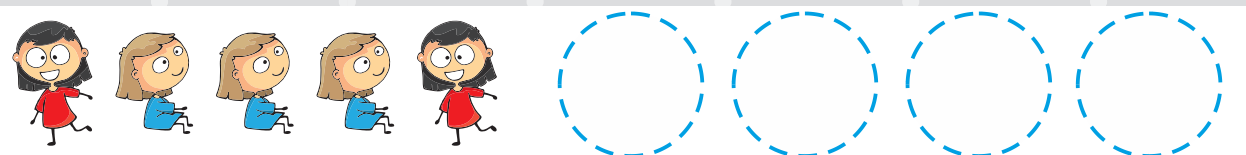


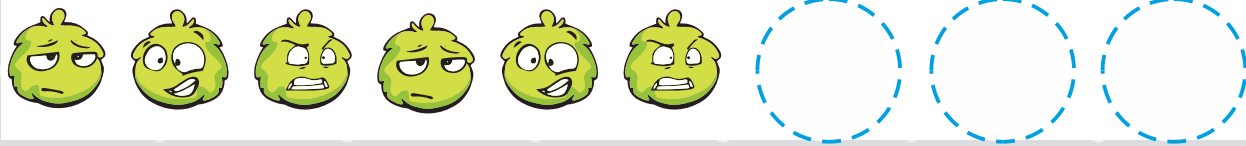
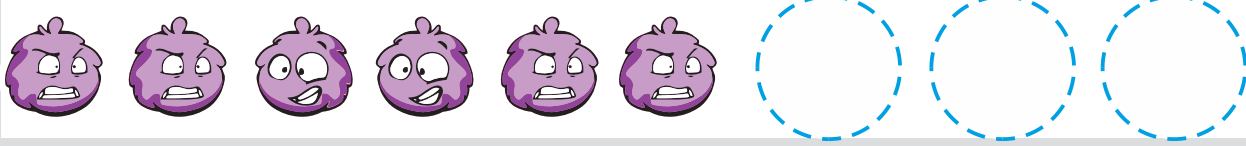



- تعداد کدام شکل ۳ تا است؟ (زمینه ی آن را آبی کن.)



هدف: آشنایی با الگویابی





الگوهای زیر را کامل کن. هر جا لازم است از برگ چسب صفحه‌ی ۱۹۷ استفاده کن.






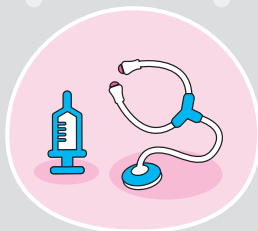




هدف: مهارت استفاده از خط کش و پیدا کردن اشکالی که تعدادشان مساوی است

تصاویری را که در آن‌ها تعداد دکمه‌ها یکسان است، به هم وصل کن. 

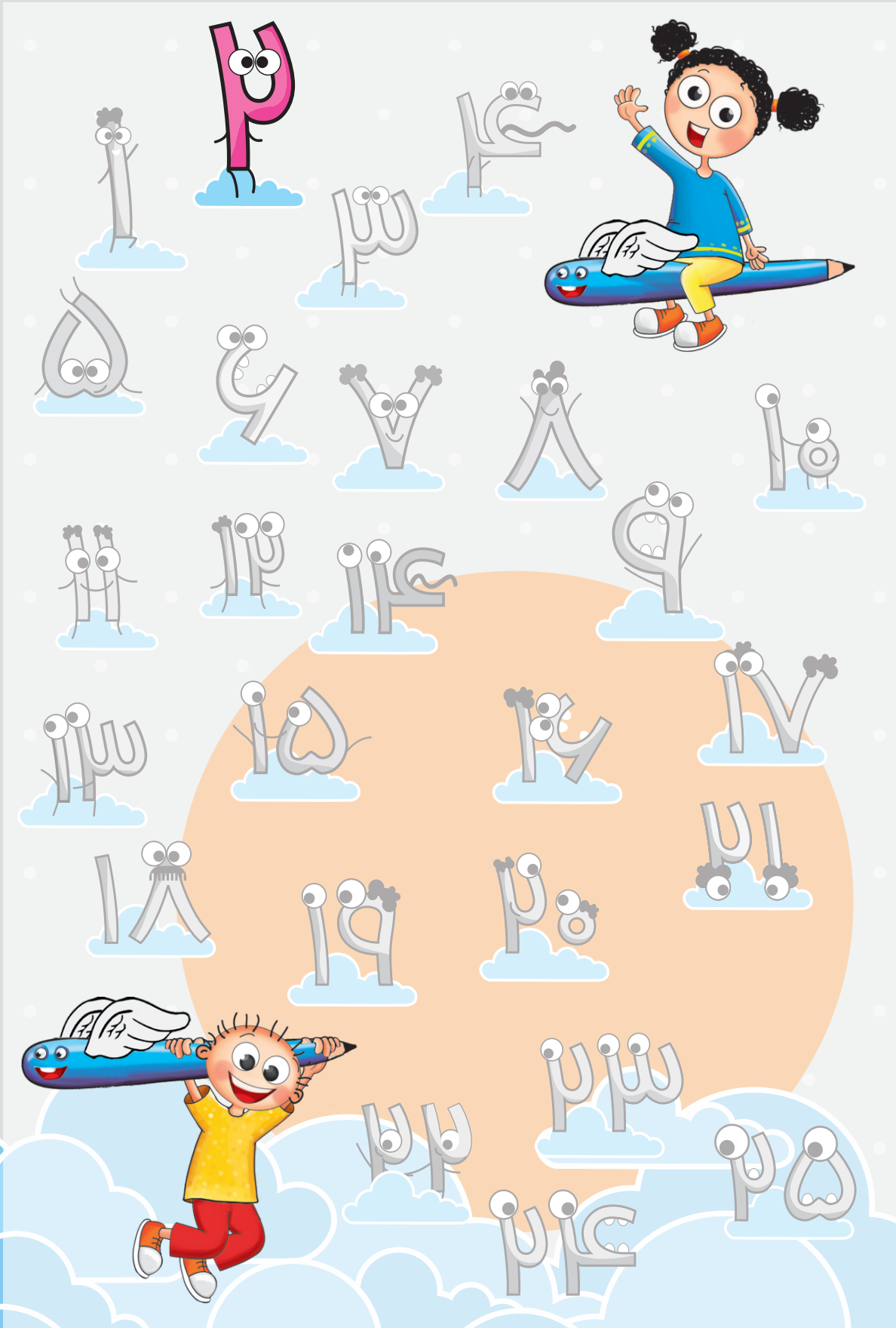


۹

تصاویری را که در آن‌ها تعداد شکل‌ها یکسان است، به هم وصل کن. 



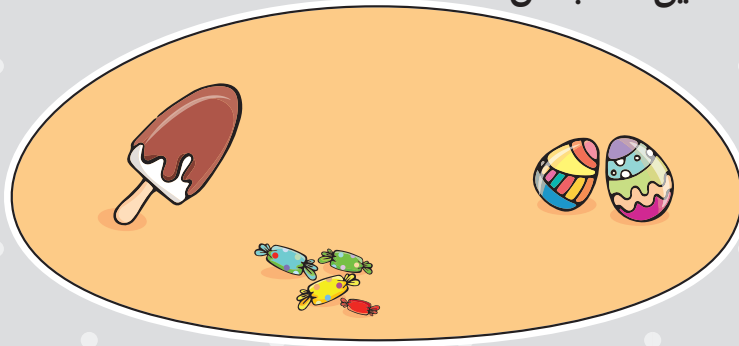
حالا مشخص کن هر حیوان چه شغلی دارد.





هدف: آشنایی با مربع‌های شگفت‌انگیز و تمرین شمارش

دور دسته‌ی ۲ تایی خط بکش.



دور شکل‌های یکسان خط بکش و دسته‌های مساوی را به هم وصل کن.



جدول‌های زیر را با برچسب صفحه‌ی ۱۹۹ کامل کن.

هدف: آشنایی با مفهوم چپ و راست و تمرین شمارش




۲ تا از خرگوش‌های سمت چپ رودخانه را رنگ کن. 

- یکی از گوسفندهای سمت راست رودخانه را رنگ کن.




- برای یکی از درخت‌های سمت چپ رودخانه میوه بکش.




هدف: آشنایی با الگوی تکرار شونده



الگوهای زیر را کامل کن.


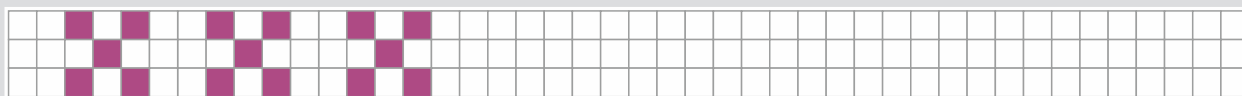



با کنار هم گذاشتن الگوهای بالا، الگوی زیر را کامل کن.




۱۴

الگوهای زیر را کامل کن.



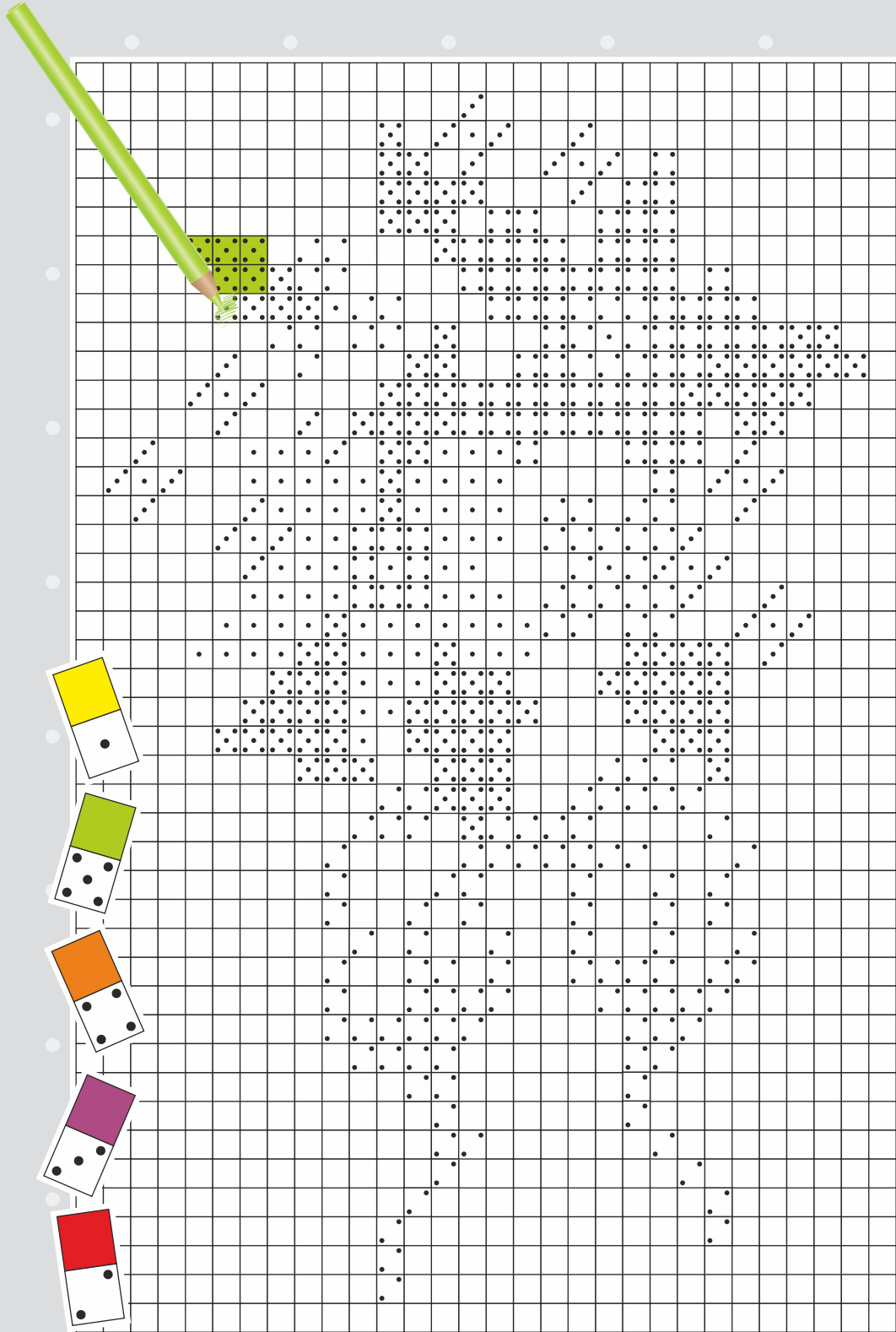
با کنار هم گذاشتن الگوهای بالا، الگوی زیر را کامل کن.





هدف: آشنایی با الگوهای شطرنجی و بالا بردن دقت

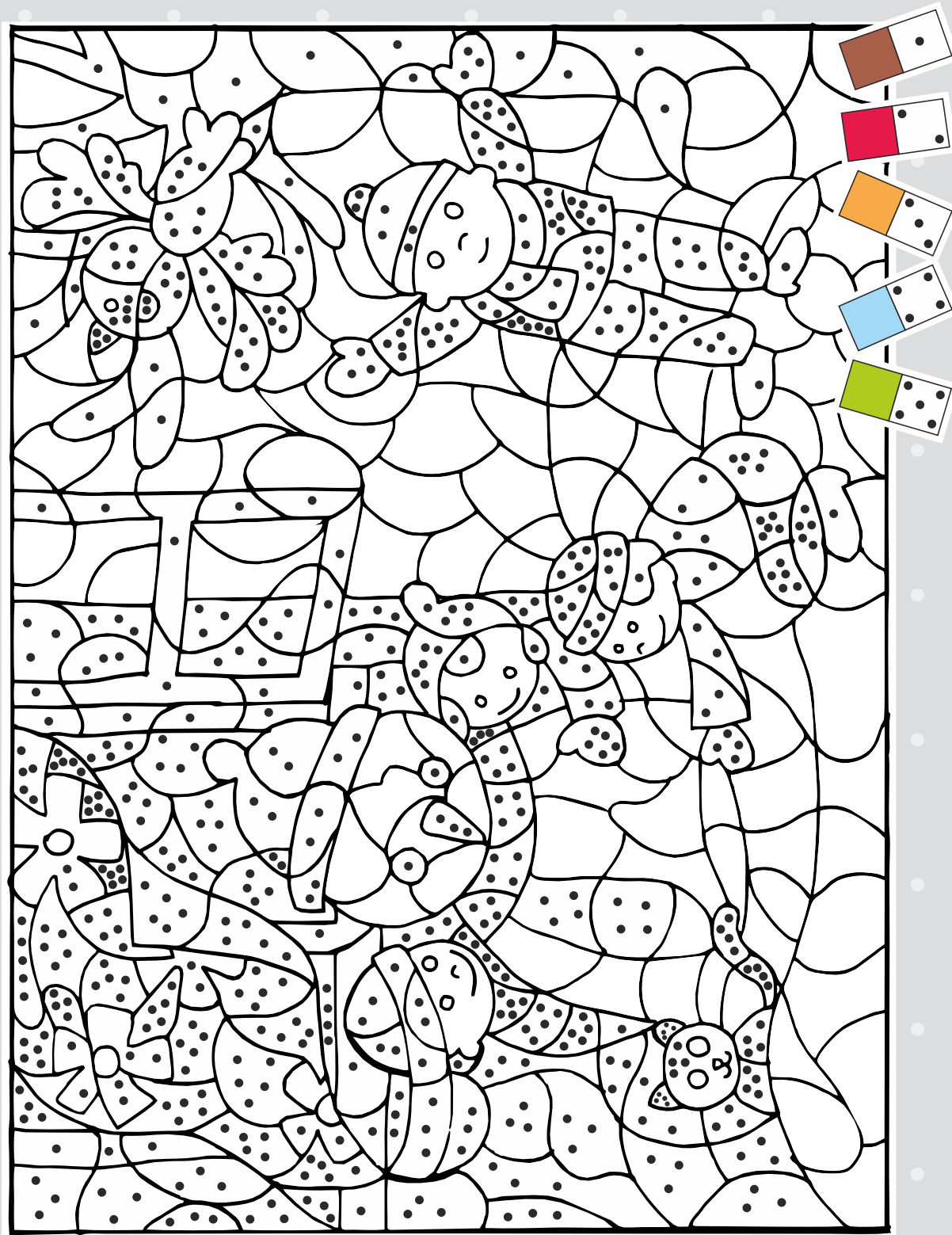
با توجه به الگو و تعداد نقطه‌های داخل هر خانه، شکل زیر را رنگ کن.





هدف: آشنایی با الگوهای شطرنجی و بالا بردن دقت

با توجه به الگو و تعداد نقطه‌های داخل هر خانه، شکل زیر را رنگ کن. 

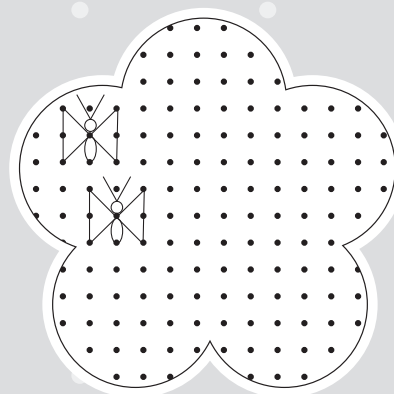
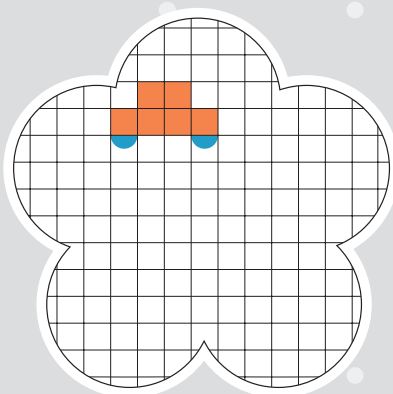





هدف: آشنایی با مفهوم ۲ تا بیش تر و مهارت استفاده از انگشتان دست برای شمارش



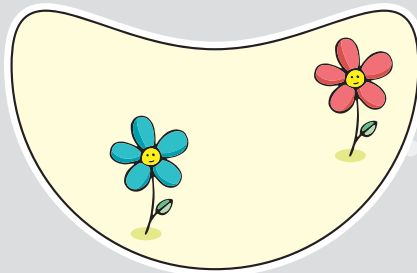



به هر دسته ۲ تا اضافه کن. (می توانی شکل ساده تری بکشی.)



۱۸


در هر ردیف به کمک انگشتان دست راست، تعداد شکل های سمت راست و با انگشتان دست چپ، تعداد شکل های سمت چپ را نشان بده.







هدف: بالا بردن دقت در ترکیب مفاهیم شمارش و چپ و راست

در هر ردیف به کمک انگشتان دست راست، تعداد هر موجود فضایی در شکل سمت راست و با انگشتان دست چپ، تعداد هر موجود فضایی در شکل سمت چپ را نشان بده.



۱۹

مربع‌های شگفت‌انگیز را با رنگ مناسب کامل کن.





هدف: بالا بردن مهارت دقت در شمارش

با توجه به جملات زیر، نام هر پسر را مشخص کن.

- آرش ۴ بادکنک و نیما ۲ بادکنک دارد.

- سهراب ۳ توپ و سیاوش ۵ توپ دارد.

- مانی ۵ مکعب و امین ۳ مکعب دارد.

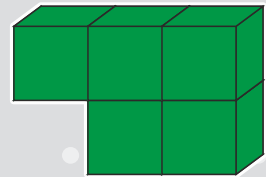
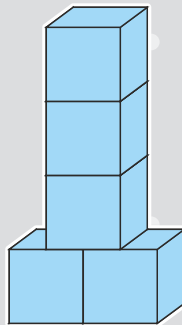
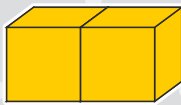
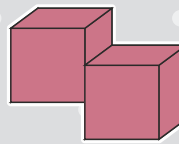
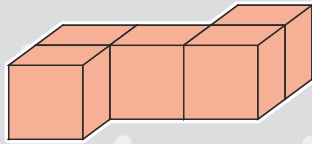
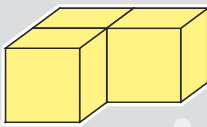
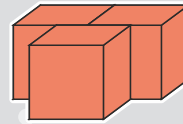
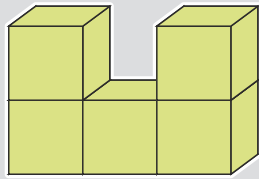
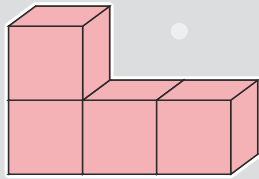
- پویان ۳ بستنی و پوریا ۲ بستنی دارد.





هدف: تقویت تجسم فضایی و ترکیب کردن سطر و ستون در جدول

تعداد مکعب‌های هر شکل را بشمار و بگو. 



۲۱

با استفاده از شابلون، مانند نمونه جدول را کامل کن. 